



1.



Ortaokullarda işlenen tarih, coğrafya, yurttaşlık bilgisi gibi alanların genel adına "Sosyal Bilgiler" diyoruz.

Mert Öğretmenin açıklamasına göre aşağıdakilerden hangisi, Sosyal Bilgiler dersinin bize katkıları arasında sayılmaz?


- A) Türkiye Cumhuriyeti'nin etkin bir vatandaşı olmamızı sağlar.
- B) Günlük yaşamda işimize yarayacak birçok genel bilgiyi öğreniriz.
- C) Başka ülkeleri, kültürleri ve yaşam tarzlarını öğreniriz.
- D) Canlıların doğma, gelişme, üreme gibi yaşam evrelerini öğreniriz.

2. Ülkemizde 2018 yılında Cumhurbaşkanlığı hükümet sistemine geçilmesi kararı alındı. Geçiş için genel seçimler yapıldı ve ülke genelinde 51 milyon seçmen oy kullanmak için sandık başına gitti. Ayrıca binlerce sandık görevlisi ve güvenlik personeli sandık bölgesinde görev yaptı. Seçimle birlikte Başbakanlık ve Başbakan Yardımcılıkları makamları kaldırıldı. Ülkenin yönetim yapısında ve kanunlarda yeni sisteme uygun düzenlemeler yapıldı.

Parçadaki bilgiye göre yeni hükümet sistemine geçişle ilgili olarak aşağıdakilerden hangisi söylenebilir?

- A) Sistem değişikliği ve seçimin çok sayıda insana etkisi olmuştur.
- B) Seçimde güvenlik konusunda önemli sorunlar yaşanmıştır.
- C) Cumhurbaşkanı ve Başbakana aynı oranda etki etmiştir.
- D) Sistem değişikliğinin çok sayıda nedeni ve bir sonucu vardır.

3.



Benim annem, hem doktor hem aşçı hem kuaför hem pastacı hem dondurmacı hem ayakkabı bağlayıcısı.....

Öğretmenin sorusu üzerine Ebrar, annesinin rollerini yukarıdaki gibi saymıştır.

Buna göre yapılabilecek en doğru yorum hangisidir?

- A) Ebrar'ın annesinin birden çok mesleği vardır.
- B) Ebrar annesini herkesten çok sevmektedir.
- C) Annelerimizin gün içinde birçok rol ve görevleri vardır.
- D) Ebrar annesine olan düşkünlüğünü abartarak anlatmıştır.

4.



Lehistanlı eğitimci Janusz Korczak, 1919 yılında yayınlanan "Bir Çocuğu Nasıl Sevmeli" adlı kitabında ilk kez çocuk haklarından söz etmiş ve konuyu gündeme taşımıştır. Çocuk haklarına dair resmileşen ilk metin 1924 yılında Milletler Cemiyeti tarafından kabul edilen Cenevre Çocuk Hakları Bildirisidir. Bu bildirge 20 Kasım 1959 tarihinde Birleşmiş Milletler Çocuk Hakları Bildirisi olarak güncellenmiş ve 20 Kasım 1989 tarihinde daha geniş olan Birleşmiş Milletler Çocuk Haklarına Dair Sözleşme ile değiştirilmiştir. Dünya Çocuk Hakları Günü, 1989 yılından bu yana, 20 Kasım tarihinde farkındalık yaratmak için kutlanmaktadır. Birleşmiş Milletler Çocuk Hakları Sözleşmesi, kanunen çocukların sahip olduğu yaşama, vatandaşlık, eğitim, sağlık, barınma, eğlenme, dinlenme, görüşlerini dile getirme, istismardan, uyuşturucudan, ekonomik sömürüden korunma gibi hakların tanımlanmasına olanak sağlamaktadır. (20.11.2018 tarihli Genel Ağ haberinden düzenlenmiştir.)

Yukarıdaki metinde aşağıdaki ifadelerden hangisine ait açıklama yoktur?

- A) Çocuklara ait bazı haklar
- B) Çocuk haklarının tarihsel gelişimi
- C) Çocuk hakları ihlalleri
- D) Çocuk hakları gününün amacı

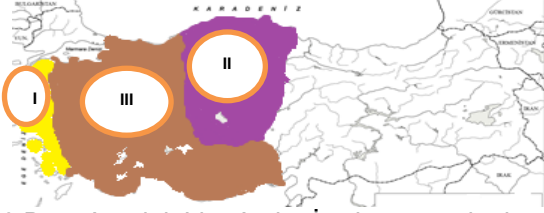
5. Üç tarafı denizlerle çevrili güzel ülkemizin birbirinden muhteşem güzellikleri var. Dağlar, plajlar, şelaleler, vadiler ve daha pek çok yer hem yerli hem de yabancı turistlerin ilgisi çekiyor. Erciyes Dağı, Ayder Yaylası, Peri Bacaları, Düden Şelalesi, Pamukkale Travertenleri, Ölüdeniz, Kelebekler Vadisi sayısız güzelliğimizden sadece birkaçıdır.

Yukarıdaki metinde ülkemizin hangi alandaki zenginliğinden bahsedilmiştir?

- A) Tarihi mekânlarımız
- B) Doğal varlıklarımız
- C) Tarihi nesnellerimiz
- D) İklim çeşitliliğimiz



6. Yaşadığımız ülkede bizden yüzlerce yıl önce başka uygarlıklar yaşamıştır. Bunlardan bazılarının özellikleri şunlardır:



I-Batı Anadolu'da Aydın-İzmir arasında kurulmuş ve site devletleri halinde yaşamışlardır. Bilimsel alanda oldukça gelişmişlerdir.

II- Başkentleri Gordion'dur. Midas adlı kralları vardır. Tarıma önem vermişler, üretime zarar verenlere cezalar vermişlerdir.

III- Batı Anadolu'da Gediz ve Menderes ovaları arasında kurulmuştur. İlk kez madeni parayı bulup alışı verişte takasa son vermişlerdir.

Haritada farklı renk ve numaralarla gösterilen, açıklama kısmında haklarında bazı ipuçları verilen uygarlıklar aşağıdakilerden hangisinde doğru eşleştirilmiştir?

I	II	III
A) İyonlar	Frigler	Lidyalılar
B) Frigler	Hititler	Urartular
C) İyonlar	Lidyalılar	Frigler
D) İyonlar	Hititler	Lidyalılar

7. Her bölgede ve şehirde farklı adet, gelenek ve göreneğin yaşandığı ülkemiz tam bir kültür mozaiğidir.

Aşağıdaki eşleştirmelerden hangisi bu duruma doğru örnek olarak gösterilebilir?

- A) Bursa-Kebab B) Antep-Baklava
C) İzmir-Sıra Gecesi D) Ankara-Efeler

8. Bayramlarda insanlar bir araya gelir, bayramlaşır, hal hatır sorar, aile büyükleri ve akrabalar ziyaret edilir. Düğünlerde insanlar mutlu anlarına ortak olmak, sevinçlerini paylaşmak amacıyla birbirlerinin yanında olurlar. Aynı şekilde cenazelerde de acılarını paylaşmak, kederlerine ortak olmak amacıyla insanlar bir araya gelir. Bunlar kültürümüzün getirdiği ortak değerlerdir.

Yukarıdaki metinde kültürel değerlerinizin hangi yönüne vurgu yapılmıştır?

- A) Teknolojinin etkisiyle değişime uğradığı
B) Tarihsel temellerinin olduğu
C) Yöreden yöreye bazı özelliklerinin değiştiği
D) Birlik ve beraberlik duygusunu artırdığı

9. Zamanla yaşanan kültürel değişim oyunlarımızda da yansımıştır.

Buna göre, aşağıdakilerden hangisi geleneksel çocuk oyunlarımızdan biri değildir?



A)



B)

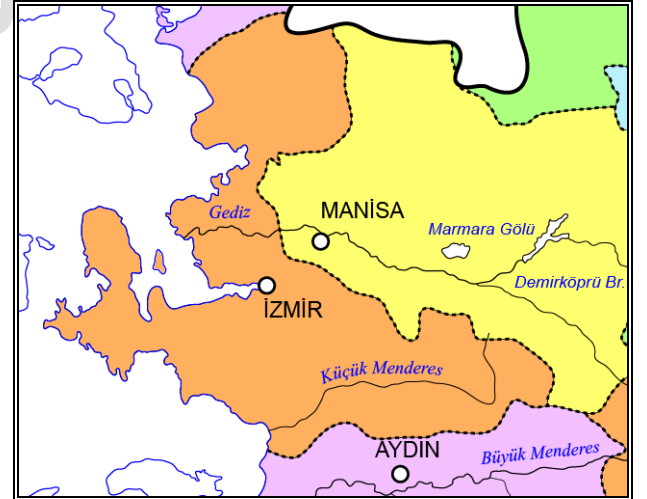


C)



D)

10.



Sosyal Bilgiler Öğretmeni Metin Özdamarlar, öğrencilerine yukarıdaki harita üzerinden İzmir ve çevresindeki yeryüzü şekillerini incelemelerini ve buldukları yüzey şekillerinin isimlerini defterlerine yazmalarını istemiştir.

Sadece bu haritaya göre öğrencilerin bulacakları yeryüzü şekilleri arasında aşağıdakilerden hangisi yer almaz?

- A) Yarımada B) Burun
C) Körfez D) Dağ



11. Amasya'da görev yapan Erhan Öğretmen tam bir doğa tutkudur. Boş zamanlarında doğayı gezmeyi seven Erhan Öğretmen, önce Amasya'nın hemen yakınındaki ilçelerden birine giderek elma ve kiraz ağaçlarının bulunduğu, çevresine göre alçak ve tarıma elverişli olan düz bölgeyi gezmiştir. Ardından başka bir ilçeye geçerek çevresine göre yüksek ve düz olan bir bölgeye çıkmış, burada heyelan sonucu oluşan Borabay adı verilen su birikintisini ziyaret etmiştir. **Erhan Öğretmenin gezdiği yeryüzü şekilleri hangi seçenekte sırası ile doğru verilmiştir?**

- A) Ova – Plato – Göl
B) Vadi – Plato – Körfez
C) Ova – Dağ – Burun
D) Koy – Boğaz – Akarsu

12. Ayşe'nin yaşadığı İzmir şehri Ege Bölgesinde bulunmakta ve Akdeniz iklimi yaşanmaktadır. Akdeniz ikliminde yazları sıcak ve kurak, kışları ise ılık ve yağışlı geçer. Bitki örtüsü makidir. Kar yağışı çok nadir görülür.

Bu bilgilere göre, Ayşe'nin yaşadığı bölgeyle ilgili;
I- Özellikle yaz turizmi gelişmiştir.
II- Turunçgiller ve zeytin gibi kısa boylu bodur bitkiler vardır.
III- Kış aylarında doğalgaz faturası çok yüklü gelir.
hangisi veya hangileri söylenebilir?

- A) Yalnız I
B) I ve II
C) Yalnız III
D) II ve III

13. Petrolün çıkarılmasıyla Batman'ın adeta kaderi değişti. 10 haneli bir köy iken 1937 yılında bucak, 1957'de ilçe olan Batman, 16 Mayıs 1990'da il haline getirildi. Petrol bulunduğu dönemde 4 bin civarında olan Batman'ın nüfusu 2018 itibarıyla 599 bini aştı. (05 Şubat 2019 tarihli Genel Ağ haberinden düzenlenmiştir.)

Habere göre Batman'ın nüfusunun artmasına neden olan faktör aşağıdakilerden hangisidir?

- A) Sanayi
B) Toprak yapısı
C) Madenler
D) İklim özellikleri

14.



Rize'de felaket! Şoke eden görüntüler

Rize'de, dünkü yağışla meydana gelen selin ardından temizlik ve hasar tespit çalışmaları sürerken, tedbir amacıyla boşaltılan dere yatağındaki 7 katlı binanın sahibi Mustafa Yazıcı, sorunun köprüden kaynaklandığını iddia etti.

Genel Ağ haberine göre, Rize'de yaşanan sel felaketinin sebebi aşağıdakilerden hangisidir?

- A) Arazi koşulları uygun olmayan yere ev yapılması
B) Dere üzerine yapılan köprü'nün yüksekliğinin az olması
C) Yapılan binanın yeterince yüksek olmaması
D) Alt yapı hizmetlerinin yetersiz olması

15. Tarım ve Orman Bakanı Bekir Pakdemirli, mecliste yaptığı açıklamada 2018 yılı doğal afet bilançosunu açıkladı. Açıklamada 2018 yılında ülkemiz genelinde; aşırı sıcaklık, aşırı kar yağışı, aşırı yağış, fırtına, dolu, kuraklık, sel-su baskını, don, heyelan, hortum, samyeli, şiddetli rüzgâr, yangın ve yıldırım düşmesi afetleri nedeniyle 70 ilimizde yaklaşık 52.450 dekar kapalı, 18.468.800 dekar açık alanda etkilenme meydana geldiğini ve özellikle tarım faaliyetlerinin bu durumdan olumsuz etkilendiğini belirtti. (18.02.2019 tarihli Genel Ağ haberinden düzenlenmiştir.)

Buna göre doğal afetlerin ortaya çıkaracağı toplumsal etkiler arasında hangisi yer almaz?

- A) Geçimini tarımla sağlayanlar maddi yönden zarara uğramışlardır.
B) Artan ürün fiyatları insanların tarım sektörüne yönelmesini sağlamıştır.
C) Tarım ürünlerinin zarar görmesi piyasada ürün azlığına sebep olmuştur.
D) Ürün fiyatlarının artması nedeniyle tüketici ekonomik olarak zorlanmıştır.



16. Aşağıda bazı teknolojik ürünler ve kullanım alanları karışık olarak verilmiştir.

I	Uçak	A	Eğitim
II	Etkileşimli tahta	B	Sağlık
III	Ultrason cihazı	C	Bilişim
IV	Yapay zekâ	D	Ulaşım

Teknolojik ürünler ile kullanım alanlarının doğru eşleştirildiği seçenek aşağıdakilerden hangisidir?

- A) I-A, II-B, III-C, IV-D
B) I-B, II-A, III-D, IV-C
C) I-D, II-C, III-B, IV-A
D) I-D, II-A, III-B, IV-C

17. Medya mesajlarına ulaşmak ve onları doğru bir şekilde sorgulayıp çözümlenebilmek medya okuryazarlığı becerisini gerektirmektedir.

Medya okuryazarlığı becerisine sahip bireylerden aşağıdakilerden hangisini yapması beklenemez?

- A) Ulaştığı bilgileri eleştirel bakış açısıyla değerlendirebilir.
B) Medyada doğru ve güvenilir bilgilere ulaşabilir.
C) Medyadaki bilgilerin güvenilirliğinden şüphe duymaz.
D) Kendi medya iletilerini üretebilme becerisine sahiptir.

18. Genel Ağ'da; iletişim, bilgiye ulaşma, eğlence, bankacılık, alışveriş ve diğer pek çok şeyi yapabiliyoruz. Peki, internette başka neler var?

Yukarıdaki soruya aşağıdaki cevaplardan hangisi verilirse doğru olmaz?

- A) Dolandırıcılar
B) İstismarcılar
C) Siber zorbalılar
D) Tüm doğru bilgiler

19. - Thomas Edison: Öğrencilik yıllarında öğretmeni bir şey öğrenemeyeceğini ifade etmiştir. Yeterince üretken olmadığı için ilk iki işinden de kovulmuştur. Yüzlerce denemenin ardından ampulü icat etmiştir.

- Robert Goddard: Roketlerle ilgili fikirleri saçma bulunarak kendisiyle dalga geçilmiştir. Günümüzde sıvı yakıtlı roketlerle ilgili deneyleri sebebiyle yere göğe sığdırılmayan bilim insanıdır.

İki örnekten yola çıkarak bilim insanlarının ortak özelliklerine ilişkin aşağıdakilerden hangisine ulaşılabilir?

- A) Planlı çalışır.
B) Yeniliklere açıktır.
C) Ümitsiz değildir.
D) Objektiftir.

20.



Yağız, öğretmenin verdiği proje görevini araştırırken birçok kaynağı inceledi. Bulduğu bilgileri sıraya koyup bir rapor yazdı ama yararlandığı kaynakları (kaynakça) yazmadı.

Bu durumla ilgili aşağıdaki yorumlardan hangisi yapılabilir?

- A) Yağız, bilimsel etiğe uygun davranmamıştır.
B) Yağız, ödevini hazırlamak için kitaplardan yararlanmıştır.
C) Yağız, kütüphaneye giderek kaynak taraması yapmıştır.
D) Yağız, bilimsel araştırma basamaklarına uymuştur.

**ŞEYDA BELHAN VE FATİH UĞURLU'DAN 5. SINIF GENÇLİĞİ
İLK HEDEFİMİZ SOSYAL BİLGİLER'DE BAŞARI - DENEME SINAVI-3**



CEVAP ANAHTARI

SORU NO	KAZANIM	CEVAP
1.	Sosyal Bilgiler dersinin, Türkiye Cumhuriyeti'nin etkin bir vatandaşı olarak kendi gelişimine katkısını fark eder.	D
2.	Yakın çevresinde yaşanan bir örnekten yola çıkarak bir olayın çok boyutluluğunu açıklar.	A
3.	Katıldığı gruplarda aldığı rollerin gerektirdiği hak ve sorumluluklara uygun davranır.	C
4.	Çocuk haklarından yararlanmaya ve bu hakların ihlallerine örnekler verir.	C
5.	Çevresindeki doğal varlıklar ile tarihî mekânları, nesnelere ve eserleri tanıtır.	B
6.	Somut kalıntılardan yola çıkarak kadim uygarlıkların insanlık tarihine katkılarını fark eder.	A
7.	Ülkemizin çeşitli yerlerinin kültürel özellikleri ile yaşadığı çevrenin kültürel özelliklerini karşılaştırarak bunlar arasındaki benzer ve farklı unsurları belirler.	B
8.	Kültürel öğelerin, insanların bir arada yaşamasındaki rolünü analiz eder.	D
9.	Günlük yaşamdaki kültürel unsurların tarihî gelişimini değerlendirir.	C
10.	Haritalar üzerinde yaşadığı bölgenin yeryüzü şekillerini genel olarak açıklar.	D
11.	Haritalar üzerinde yaşadığı bölgenin yeryüzü şekillerini genel olarak açıklar.	A
12.	Yaşadığı bölgede görülen iklimin, insan faaliyetlerine etkisini, günlük yaşantısından örnekler vererek açıklar.	B
13.	Bölgesindeki doğal özellikler ile beşerî özelliklerin nüfus ve yerleşim üzerindeki etkilerini ilişkilendirir.	C
14.	Yaşadığı çevredeki afetlerin ve çevre sorunlarının oluşum nedenlerini sorgular.	A
15.	Doğal afetlerin toplum hayatı üzerine etkilerini örneklerle açıklar.	B
16.	Teknoloji kullanımının sosyalleşme ve toplumsal ilişkiler üzerindeki etkisini tartışır.	D
17.	Sanal ortamda ulaştığı bilgilerin doğruluk ve güvenilirliğini sorgular.	C
18.	Sanal ortamı güvenli kullanmaya önem gösterir.	D
19.	Buluş yapanların ve bilim insanlarının ortak özelliklerini belirler.	C
20.	Yaptığı çalışmalarda bilimsel etiğe uygun davranır.	A