

ADI SOYADI:  
SINIFI NO:

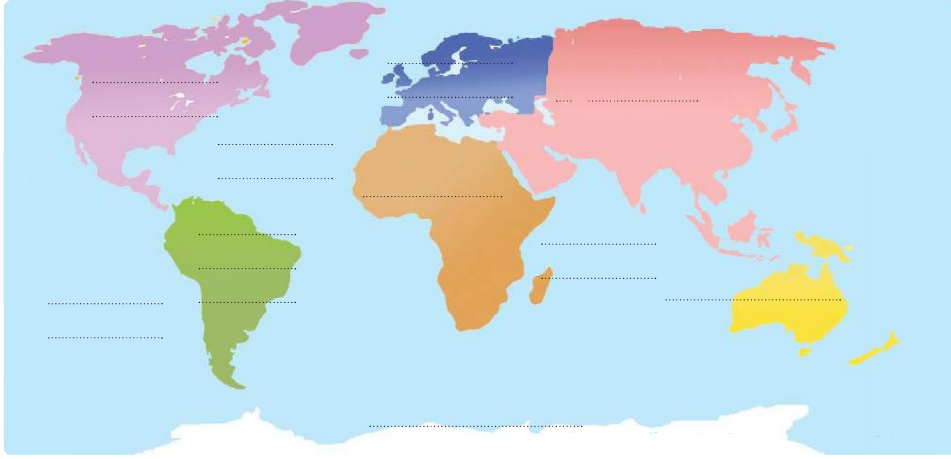


**-SUGÖREN ORTAOKULU-**  
T.C. İnkılap Tarihi ve Atatürkçülük-  
Sosyal Bilgiler Hazırlık Testleri



PUAN:

A. Aşağıdaki dilsiz harita üzerine ilgili kıtaları ve okyanusları yazalım.



B. Aşağıda verilen bilgileri ait oldukları kavramlar ile eşleştirelim.

1. Dünya üzerinden geçtiği varsayılan yatay yarım dairelerdir.
2. Dünya üzerinden geçtiği varsayılan dikey yarım dairelerdir.
3. 360 adet olduğu varsayılmaktadır.
4. 180 adet olduğu varsayılmaktadır.
5. Yerel saat hesaplamasında kullanılır.
6. Aralarındaki mesafe her yerde 111 km'dir.
7. İki yarım daire arasında 4 dakikalık zaman farkı vardır.
8. Boyları, Ekvator'dan Kutuplara doğru gidildikçe küçülür.
9. Sadece Ekvator üzerinde aralarındaki mesafe 111 km'dir.
10. Greenwich, başlangıcı olarak kabul edilir.
11. Ekvator, başlangıcı olarak kabul edilir.
12. Yerel saat hesaplamalarında kullanılır.

PARALELLER

MERİDYENLER

"Biz her şeyi gençliğe bırakacağız... Geleceğin ümidi, ışıklı çiçekleri onlardır. Bütün ümidim gençliktedir."

*S. ÖZGÜR*

Aşağıdaki cümlelerde boş bırakılan yerleri sözcük ve sözcük gruplarından uygun olanları ile tamamlayalım.

ölçek Asya özel konum

Ekvator Greenwich dakika

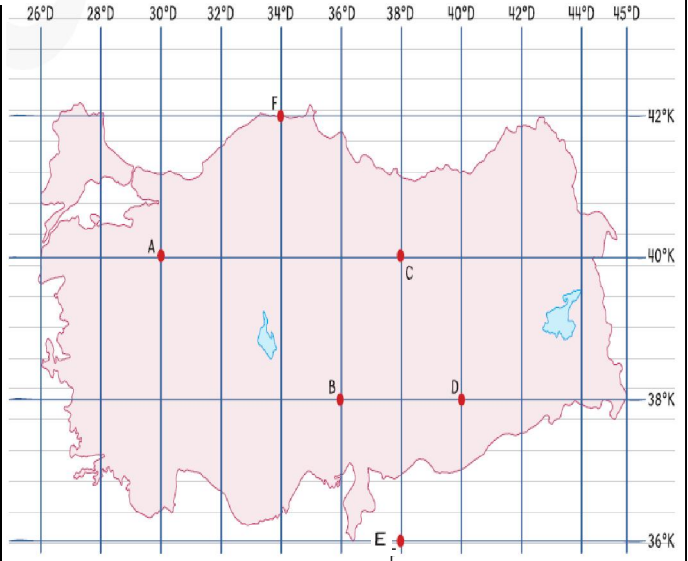
1. Haritalarda kullanılan küçültme oranına ..... denir.
2. Türkiye'nin en doğusuyla en batısı arasında 76 ..... zaman farkı vardır.
3. Yüz ölçümü en büyük olan kıta ..... Kıtası'dır.
4. Başlangıç meridyenine ..... denilir.
5. Dünya'yı iki eşit yarım küreye bölen hayali çembere ..... denir.
6. Türkiye'de batıdan doğuya doğru gidildikçe yükseltinin artması ..... ile ilgilidir.

Aşağıdaki bilgilerin ilgili olduğu kavramı (✓) ile işaretleyelim.

	Paralel	Meridyen
1. Aralarındaki mesafe her yerde 111 km'dir.		
2. Kutup noktalarında birleşirler.		
3. Aralarında 4 dakika zaman farkı vardır.		
4. Toplam sayıları 180 tane'dir.		
5. Boyları birbirine eşittir.		
6. Kuzey güney doğrultusunda uzanırlar.		

"Biz her şeyi gençliğe bırakacağız... Geleceğin ümidi, ışıklı çiçekleri onlardır. Bütün ümidim gençliktedir."

*S. ÖZGÜR*



Haritadan yararlanarak aşağıdaki soruları cevaplayınız.

1. C noktası ile E noktası arasındaki kuş uçuşu uzaklık ne kadardır?
2. C noktasının matematik konumu nedir?
3. Ekvator'a en yakın nokta hangisidir?
4. Güneş en önce hangi noktada doğar?
5. Hangi noktaların yerel saatleri aynıdır?
6. Başlangıç Meridyeni'ne en yakın nokta hangisidir?
7. A noktası ile C noktası arasında kaç dakikalık zaman farkı vardır?
8. En uzun paralel daireleri hangi noktadan geçmektedir?
9. Türkiye'nin matematik konumu nedir?
10. Türkiye'nin en kuzeyi ile güneyi arasında kaç km mesafe vardır?

ADI SOYADI:  
SINIFI NO:



**-SUGÖREN ORTAOKULU-**  
T.C. İnkılap Tarihi ve Atatürkçülük-  
Sosyal Bilgiler Hazırlık Testleri



PUAN:

Aşağıdaki soruların cevaplarını karşılarında verilen boşluklara yazalım.

1.	Dünyanın tamamının ya da bir bölümünün kuş bakışı görünümünün belli bir ölçek dahilinde küçültülerek bir düzleme aktarılmasına ne denilir?	
2.	Dünya'nın Kutuplarından basık, Ekvator'dan şişkin olan şekline ne denilir?	
3.	En uzun paralel dairesi hangisidir?	
4.	Ekvator'a paralel olarak ve birer derecelik açılarla çizilen hayali çizgilere ne denilir?	
5.	Kuzey Yarım Küre'de kaç tane paralel dairesi vardır?	
6.	Art arda gelen iki paralel arasındaki kuş uçuşu mesafe ne kadardır?	
7.	Bir kutup noktasından başlayıp diğer kutup noktasında sona eren, Ekvator'u ve paralelleri dik kesen hayali çizgilere ne denilir?	
8.	Başlangıç meridyeni hangisidir?	
9.	Batı Yarım Küre'de kaç tane meridyen yayı vardır?	
10.	Herhangi bir yerin dünya üzerinde bulunduğu konumuna ne denilir?	
11.	Herhangi bir yerin denizlere kıtalara, okyanuslara, boğazların komşu ülkelere göre konumuna ne denilir?	
12.	İki meridyen arasında kaç dakikalık zaman farkı vardır?	
13.	Türkiye hangi yarım kürede bulunmaktadır?	
14.	Türkiye'nin en doğusu ile en batısı arasında ne kadar meridyen farkı vardır?	
15.	Yüz ölçümü bakımından en büyük kıta hangisidir?	

"Biz her şeyi gençliğe bırakacağız... Geleceğin ümidi, ışıklı çiçekleri onlardır. Bütün ümidim gençliktedir."

*K. Öner*

ADI SOYADI:  
SINIFI NO:



**-SUGÖREN ORTAOKULU-**  
T.C. İnkılap Tarihi ve Atatürkçülük-  
Sosyal Bilgiler Hazırlık Testleri



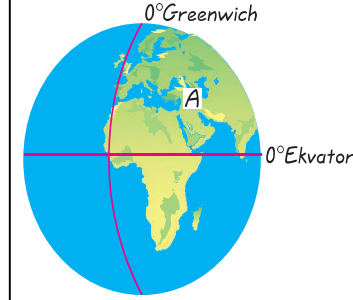
PUAN:

1-)

Başlangıç Paraleli olarak bilinen Ekvator ile ilgili aşağıdakilerden hangisi söylenemez?

- A) En büyük paralel dairesidir.  
B) Dünya'yı Kuzey ve Güney Yarım Küre olmak üzere iki eşit parçaya böler.  
C) Kuzeyinde 180, güneyinde 180 paralel dairesi vardır.  
D) Dünya'nın tam ortasından geçtiği düşünülen yatay dairedir.

2-)



Dünya üzerinde yeri gösterilen A ülkesi ile ilgili

- I. Kuzey Yarım Kürede yer almaktadır.  
II. Batı Yarım Kürede yer almaktadır.  
III. Ekvator'un kuzeyinde yer almaktadır.

- A) I ve II  
B) I ve III  
C) II ve III  
D) I, II ve III

3-)

Aşağıdakilerden hangisi Dünya üzerindeki bir yerin matematik konumunu belirlemek için kullanılacak bilgiler arasında yer alır?

- A) Bölgenin yer altı kaynakları  
B) Bölgenin başlangıç meridyenine uzaklığı  
C) Bölgenin doğal güzellikleri  
D) Bölgenin denizlere göre konumu

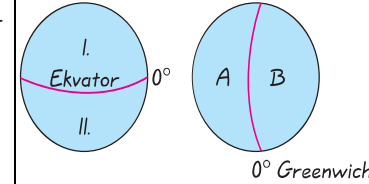
4-)

- I. Dünya'nın en büyük kıtasıdır.  
II. Dünya'daki en büyük okyanustur.  
III. İnsan yaşamının olmadığı kıtadır.

Yukarıda numaralandırılarak verilen bilgiler aşağıdakilerden hangisine aittir?

- |                  | I              | II         | III |
|------------------|----------------|------------|-----|
| A) Asya          | Büyük Okyanus  | Antarktika |     |
| B) Afrika        | Atlas Okyanusu | Avustralya |     |
| C) Kuzey Amerika | Hint Okyanusu  | Asya       |     |
| D) Asya          | Atlas Okyanusu | Antarktika |     |

5-)



Türkiye'nin matematik konumu dikkate alındığında Ekvator ve Greenwich'e göre numaralandırılmış hangi kürelerde yer alması beklenir?

- A) I/A B) I/B C) II/A D) II/B

6-)

Öğretmenim Türkiye'nin özel konumunu araştırmamızı istedi. Bir ülkenin özel konumu neye göre belirlenir acaba?

Öğrencinin sorusuna aşağıdakilerden hangisi cevap olarak verilemez?

- A) Ekonomik faaliyetlerine göre belirlenir.  
B) Kıta, okyanus ve ülkelere göre belirlenir.  
C) Meridyen derecelerine göre belirlenir.  
D) Yeryüzü şekillerine göre belirlenir.

7-)

- I. İstanbul ve Çanakkale boğazlarına sahiptir.  
II. Ekvator'un kuzeyinde yer alır.  
III. Üç tarafı denizlerle çevrili bir yarım adadır.  
IV. Doğusu ile batısı arasında 76 dakika zaman farkı vardır.

Yukarıdaki bilgilerden hangileri Türkiye'nin özel konumunun sonuçları arasında yer almaz?

- A) Yalnız IV  
B) II ve III  
C) II ve IV  
D) III ve IV

8-)



Yeryüzünde birbirinden farklı kıta, okyanus vardır. Yüz ölçümü en büyük olan kıta ▲'dir. En büyük okyanus ise Büyük Okyanus'tur.

Tuğba Öğretmenin ifadesinde sembolendirilerek gösterilen yerlere sırasıyla hangi bilgiler getirilmelidir?

- |         | ●   | ★      | ▲ |
|---------|-----|--------|---|
| A) yedi | üç  | Afrika |   |
| B) beş  | iki | Asya   |   |
| C) yedi | üç  | Asya   |   |
| D) iki  | beş | Afrika |   |

9-)

Aşağıdakilerden hangisi meridyenlerin özelliklerinden değildir?

- A) Meridyenler birer yarım dairedir.  
B) Bütün meridyenler kutuplarda birleştikleri için uzunlukları eşittir.  
C) Meridyenler arası uzaklık her yerde 111 km'dir.  
D) Aynı meridyen üzerindeki noktalar Güneş'in karşısından aynı anda geçtikleri için yerel saatleri aynıdır.