

Fen Bilimleri Örnek Soruları

1. Hava durumuyla ilgili televizyon haberinde Őu bilgiler verilmiŐtir:

Tarih: 29.09.2018 Saat: 22.00

Türkiye'de kasırganın görölmesine saatler kaldı. Meteorolojiden verilen bilgilere göre kasırga İzmir, Aydın, Muğla illerinde etkili olacaktır.

Tarih: 29.09.2018 Saat: 24.00

Meteorolojiden son ulaşan bilgilere göre kasırganın Marmara Bölgesi'ne ulaşması bekleniyor. İstanbul, Çanakkale, Edirne etkilenebilir. Özellikle İstanbul'da deniz kabarması, çatı uçması, ağaç devrilmesi gözlenebilir. Vatandaşların dikkatli olması gerekmektedir.

Tarih: 30.09.2018 Saat: 10.00

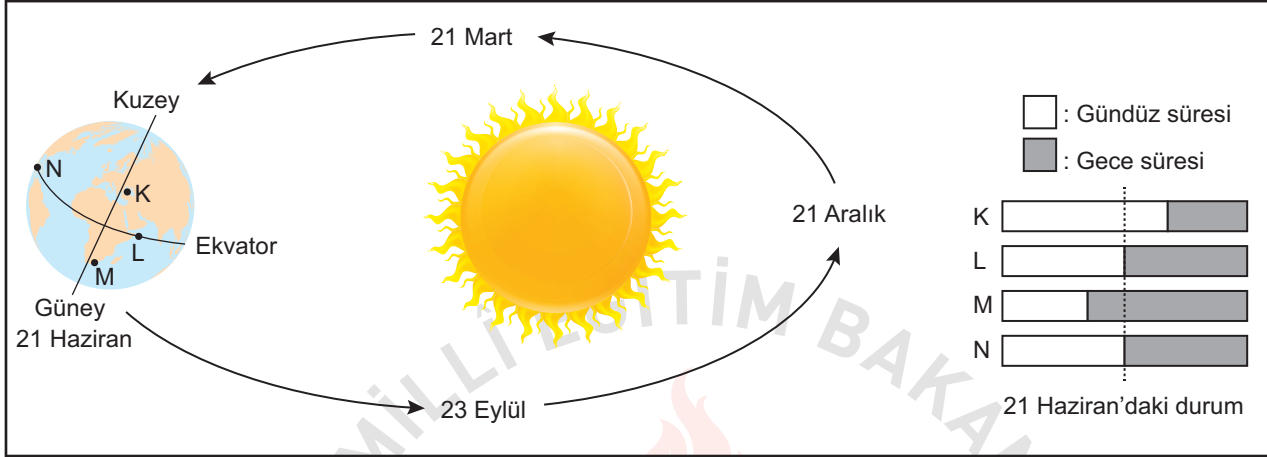
Kasırga yön deđiŐtirerek Ege Denizi'ndeki bazı adaları etkisi altına aldı. Ancak ülkemizin kıyı bölgelerinde sağanak Őeklinde yağmur beklenmektedir.

Bu televizyon haberine göre aŐağıdakilerden hangisi söylenebilir?

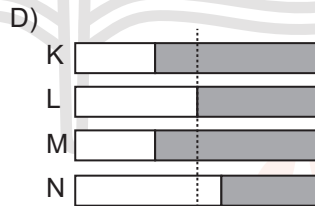
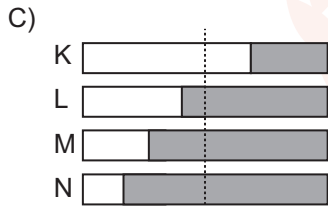
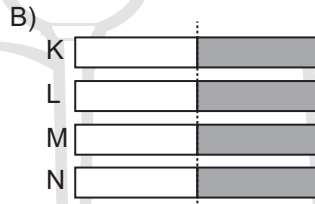
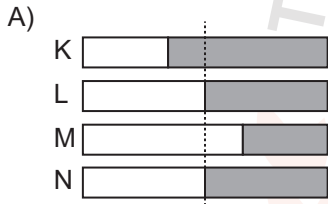
- A) Türkiye'de iklim deđiŐimlerinin etkilerinin görölmediđi
- B) Türkiye'nin Őiddetli kasırgaların etkisi altına girmeyeceđi
- C) Hava durumuyla ilgili tahminlerin deđiŐkenlik gösterebileceđi
- D) Deniz kıyısından iç bölgelere ilerledikçe kasırgaların hızının arttıđı

2. Mevsimlerin başlangıcı olarak dört önemli tarih bulunur. Bunlar, 21 Haziran, 21 Aralık, 21 Mart ve 23 Eylül tarihleridir. Örneğin 21 Haziran'da Kuzey Yarım Küre'de yaz mevsimi başlarken, en uzun gündüz, en kısa gece yaşanır. Aynı tarihte Güney Yarım Küre'de bu durumların tam tersi yaşanır.

Bir öğrenci yerküre üzerinde belirlediği K, L, M ve N noktalarının verilen tarihlerdeki gece-gündüz süreleri ile ilgili kartlar hazırlamıştır. 21 Haziran için hazırlanan kart şekildeki gibidir.



Buna göre 21 Aralık tarihi için hazırlanan kartta K, L, M ve N noktalarının gece ve gündüz sürelerinin gösterimi aşağıdakilerden hangisi olabilir?

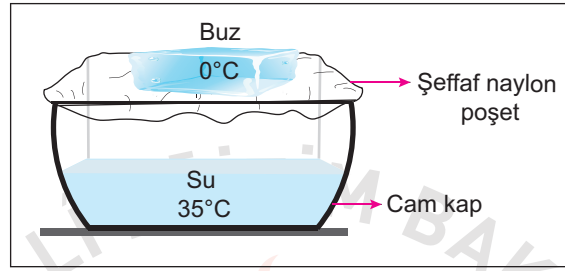


3. **Dolu** : Havanın içindeki su damlacıklarının çok soğuk hava ile karşılaşarak aniden donması sonucu buz parçaları hâlinde yeryüzüne ulaşması.

Kırağı : Soğuk günlerin gecelerinde havadaki su buharının yeryüzündeki toprak ve bitki gibi yüzeyler üzerinde kristaller oluşturması.

Yağmur : Su buharının yükselerek çıktıkça soğuk hava ile karşılaşarak yoğuşarak su damlaları hâlinde yere düşmesi.

Aşağıda 25°C sınıf ortamındaki deney düzeneğinde içerisinde bir miktar su bulunan cam kabın üzeri şeffaf naylon poşet ile kapatılmıştır. Poşet üzerine sıcaklığı 0°C olan buz parçası yerleştirilmiştir.



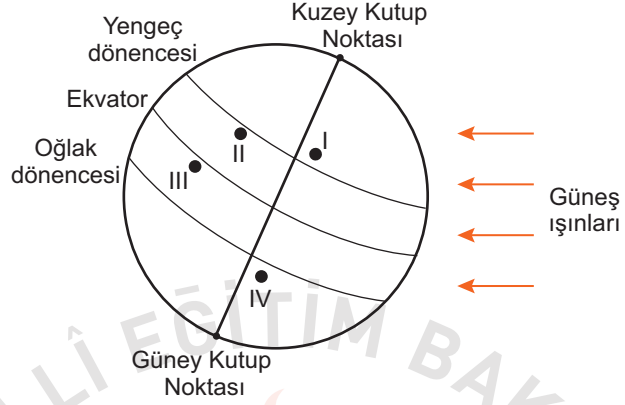
Bir süre sonra cam kap içerisinde yukarıda açıklamaları verilen hava olaylarından hangileri gözlenir?

- A) Yalnız yağmur
B) Yalnız dolu
C) Dolu ve kırağı
D) Kırağı ve yağmur

4. Ayşe'nin, yurt dışında yaşayan arkadaşı Zeynep ile telefon konuşması şu şekildedir:

Ayşe : Temmuz ayı İzmir'de çok sıcak geçiyor. Hiç rüzgâr esmiyor. Havanın nemi artıyor. Orada hava durumu nasıl?

Zeynep : Burada şu an yaşanan mevsim nedeniyle devam eden yoğun sis ve kar yağışı var. Ulaşım olumsuz etkilendiği için uçak seferleri iptal edildi. Bu hafta Türkiye'ye gelmeyi düşünmüştüm bu yüzden gelemedim.



Şekilde yerküre üzerinde numara ile gösterilen dört yer verilmiştir.

Buna göre Zeynep'in yaşadığı şehrin, numaralı yerlerin hangisinde bulunması beklenir?

A) I

B) II

C) III

D) IV

5. İklim ve hava olayları, birbiri ile ilişkili ancak farkları olan kavramlardır. İklim, geniş bir bölgede uzun yıllar devam eden atmosfer olaylarının ortalamasıdır. Hava olayları ise dar bir alanda ve kısa süre içinde görülen atmosfer olaylarıdır.

Ahmet, beş gün boyunca her sabah aynı saatte hava olaylarını gözlemlemek için gökyüzünü incelemiş ve termometreyi balkondaki gölge bir yere asarak hava sıcaklığını ölçmüştür. Yaptığı ölçüm ve gözlemleri sonucunda oluşturduğu tablo aşağıdaki gibidir:

Ahmet'in Hava Gözlem Tablosu			
Günler	Gökyüzü	Sıcaklık (°C)	Rüzgâr şiddeti
Pazartesi		11	Hafif
Salı		10	Orta
Çarşamba		13	Orta
Perşembe		11	Şiddetli
Cuma		10	Şiddetli

Ahmet'in oluşturduğu hava gözlem tablosu ile ilgili olarak aşağıdakilerden hangisi söylenebilir?

- A) Bu tablodaki hava durumu yalnızca yaz mevsiminde gözlenir.
- B) Bulunulan bölgenin hava sıcaklığı gün boyunca sürekli ölçülerek kaydedilmiştir.
- C) Hava sıcaklığının aynı olduğu günlerde farklı hava olayları yaşanmıştır.
- D) Geniş alanda yıl boyu benzerlik gösteren atmosfer olaylarının ortalaması alınmıştır.

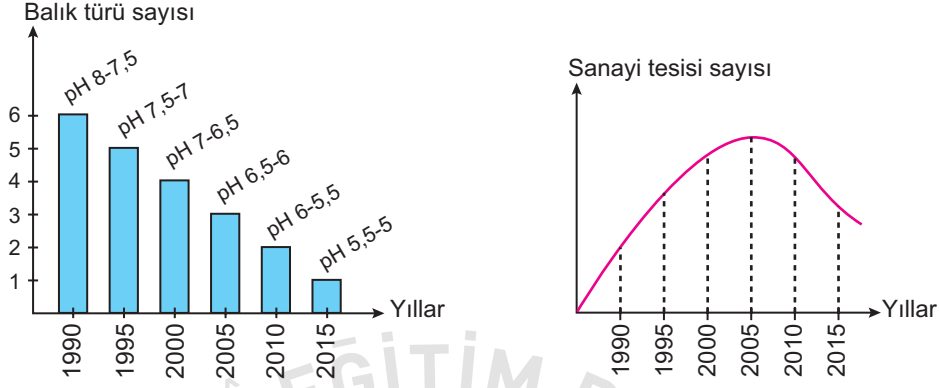
6. Birçok hayvan, buldukları ortamın zeminine fark edilemeyecek kadar iyi uyum sağlar. Bu durum kamuflaj olarak adlandırılır. Sıklıkla onların renkleri tam olarak buldukları zeminin rengine benzer. Bazı hayvanlar ise derilerindeki pigmentlerin (renk maddelerinin) dağılımlarını değiştirerek girdiği ortamın zeminine çok benzer desenlenmeler bile gösterebilir. Böylece kamuflaj, hayvanların avcılarından saklanmasına yardımcı da olur.

Bu açıklamalara göre aşağıdakilerden hangisi kamuflaja örnek verilebilir?

- A) Zehirli arıların etrafında uçan bazı sineklerin de bu arılar gibi sarı-siyah şeritlere sahip olması
- B) Bazı böceklerin saldırıya uğradığında vücudundaki değişik sıvıları ortama salması
- C) Bazı kelebeklerin kanat desenlerine benzer yapraklar üzerinde bulunması
- D) Zehirli ok kurbağasının parlak renklenmesi nedeniyle düşmanları tarafından kolayca tanınıp av olmaktan kurtulması



7. Aşağıdaki grafiklerde, asit yağmurlarının olduğu bir bölgede göldeki suyun pH değeri ve balık türü sayısı ile o bölgedeki sanayi tesisi sayısının yıllara göre değişimleri gösterilmiştir.

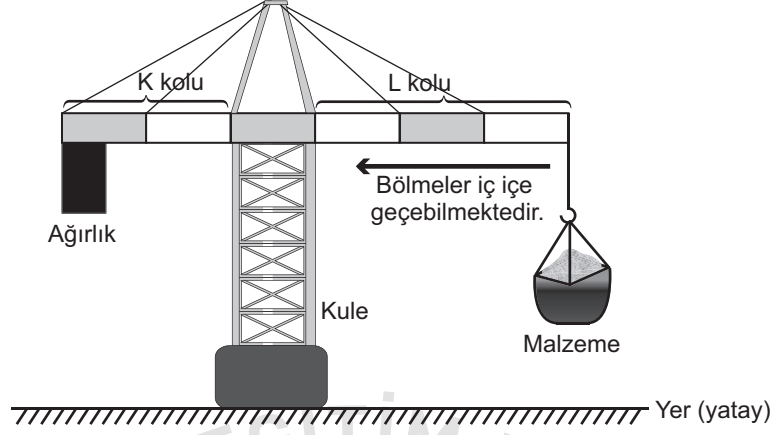


İki grup araştırmacıdan birinci grup, balık türü sayısındaki azalmanın sanayi tesisi artışına bağlı olduğunu düşünüyor. Böyle düşünmeyen ikinci grup ise göldeki suyun pH değerinin değişimine yol açabilecek başka faktörleri araştırıyor.

İkinci gruptakiler grafiklerdeki hangi durumları karşılaştırarak başka faktörleri araştırmaya karar vermiştir?

- A) 1990 ve 2000 yıllarındaki pH değerlerini
- B) 1990 ve 2000 yıllarındaki balık türleri sayısını
- C) 2000 - 2005 yılları arasındaki sanayi tesisi ve balık türü sayısını
- D) 2005 - 2015 yılları arasındaki sanayi tesisi sayısı ve suyun pH değerini

8. Bir inşaat malzemelerin taşınabilmesi için şekildeki gibi ağırlık asılı kuleli vinç kullanılmaktadır. Bu vinçte K ve L kollarındaki bölmeler gerektiğinde iç içe geçebilmektedir.



Malzeme taşınırken K kolundaki ağırlık yukarı doğru kalktığında kulenin dengesi bozulur.

Bu vinç şekildeki gibi dengesi bozulmadan taşıdığı malzemeyi bıraktıktan sonra kütlesi daha fazla olan başka bir malzeme taşıyacaktır.

Aşağıdaki işlemlerden hangisi vincin dengesi bozulmadan kütlesi daha fazla olan malzemenin yukarı taşınmasını sağlar? (Kollardaki bölmeler eşit olup kolların ağırlığı ve sürtünmeler önemsizdir.)

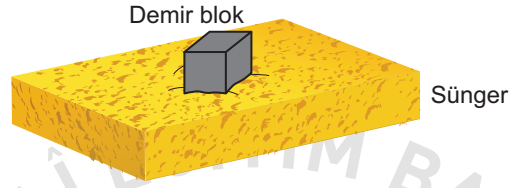
- A) K kolunun kısaltılması
- B) L kolunun kısaltılması
- C) Kule yüksekliğinin artırılması
- D) K kolundaki ağırlığın azaltılması

9. Bir öğrenci tabloda verilen malzemeleri kullanarak yaptığı deneyde, cisimlerin buldukları zemine uyguladıkları basıncın zemine uyguladıkları dik kuvvetin büyüklüğüne bağlı olup olmadığını araştıracaktır.

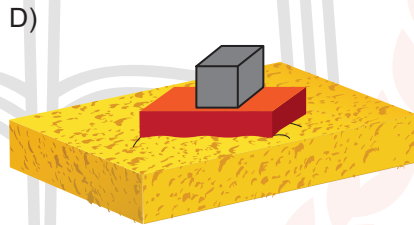

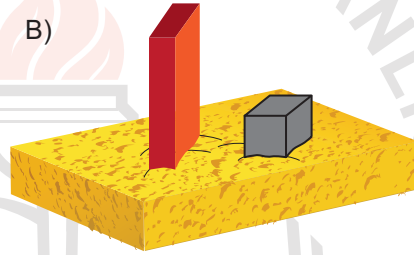
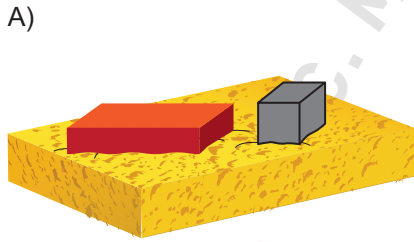
Tablo: Deneyde Kullanılan Malzemeler

- 2 adet özdeş sünger
- 1 adet 1000 gramlık dikdörtgenler prizması şeklinde tuğla
- 2 adet 1000 gramlık küp şeklinde demir blok

Öğrenci, verilen malzemelerle iki düzenek hazırlayıp karşılaştıracaktır. Düzeneklerden birincisi aşağıda verilmiştir.



Buna göre öğrencinin, araştırmasında kullanacağı ikinci düzenek aşağıdakilerden hangisi olmalıdır?



10. Bir okuldaki malzeme dolabında özdeş kapalı cam şişelerde HCl, NaOH, H₂SO₄ sulu çözeltileri ve saf su bulunmaktadır. Ancak şişelerde hangi sıvının bulunduğunu belirten bir etiket yoktur.

Asitlerin, mavi turnusol kâğıdını kırmızı; bazların ise kırmızı turnusol kâğıdını mavi renge dönüştürdüğünü bilen bir öğrenci şişelere doğru etiketleri yapıştırmak için deney yapıyor. Bu deneyde her şişeye ayrı ayrı bir kırmızı, bir mavi turnusol kâğıdı daldırıp kâğıtlardaki renk değişimini tabloya kaydediyor.

Turnusol kâğıdı Çözeltiler	Mavi turnusol	Kırmızı turnusol
I. Çözelti	Kırmızı	Kırmızı
II. Çözelti	Mavi	Kırmızı
III. Çözelti	Kırmızı	Kırmızı
IV. Çözelti	Mavi	Mavi

Buna göre öğrencinin deneyde tabloya kaydettiği verilerin doğru etiketleme için yeterliliğiyle ilgili aşağıdakilerden hangisi söylenebilir?

- A) Yeterlidir, çünkü asit, baz ve nötr sıvılar belirlenmiştir.
B) Yeterlidir, çünkü bütün çözeltilerdeki turnusol kâğıdında renk değişimi gözlenmiştir.
C) Yeterli değildir, çünkü asitlerin cinsi belirlenememiştir.
D) Yeterli değildir, çünkü baz ve su belirlenememiştir.

CEVAP ANAHTARI

FEN BİLİMLERİ

1. C

2. A

3. A

4. D

5. C

6. C

7. D

8. B

9. C

10. C

